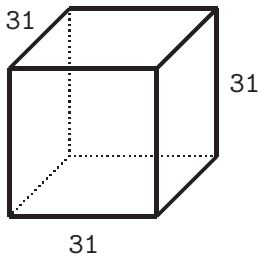


綜合練習：

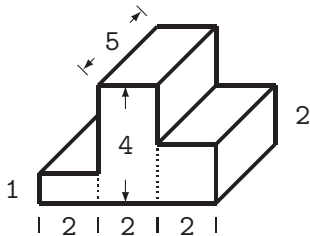
選擇題：

1 () 計算以下圖形的體積？



- ① 29781 ② 29791 ③ 29801 ④ 29811

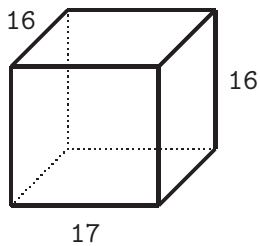
2 () 計算以下圖形的體積？



- ① 70 ② 170 ③ 270 ④ 370

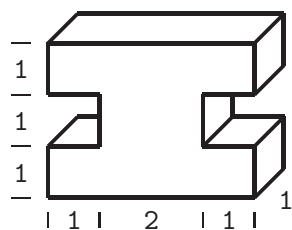
填充題：

(1) 計算以下圖形的體積 _____。



(2) 計算以下圖形的體積 _____。

綜合練習：



解答：

選擇題

(1) 2

(2) 1

填充題

(1) 4352

(2) 10