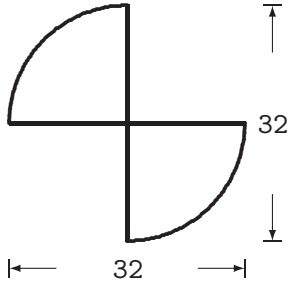


# 綜合練習：

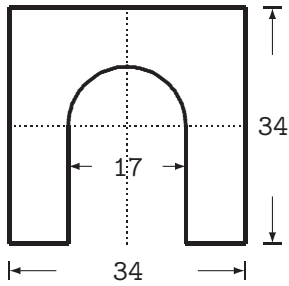
## 選擇題：

1 ( ) 以下圖形的面積是？



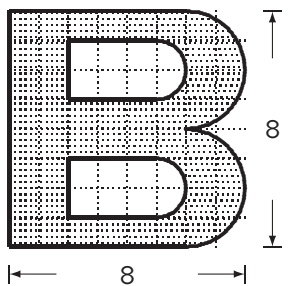
- ① 401.72    ② 401.82    ③ 401.92    ④ 402.02

2 ( ) 以下圖形的面積是？



- ① 766.42    ② 766.52    ③ 766.62    ④ 766.72

3 ( ) 以下陰影圖形的面積是？

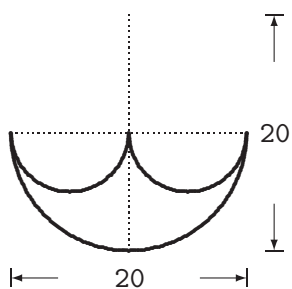


- ① 45.12    ② 45.22    ③ 45.32    ④ 45.42

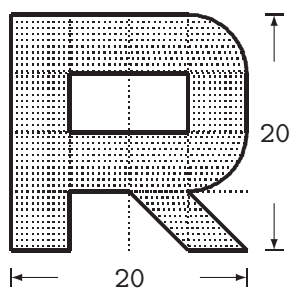
## 填充題：

(1) 以下圖形的面積是 \_\_\_\_\_。

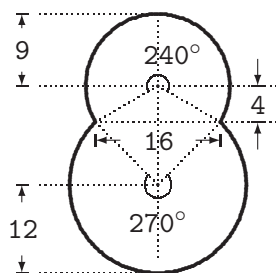
# 綜合練習：



(2) 以下陰影圖形的面積是 \_\_\_\_\_。



(3) 以下圖形的面積是 \_\_\_\_\_。



解答：

---

選擇題

- (1) 3
- (2) 2
- (3) 4

填充題

- (1) 78.5
- (2) 289.25
- (3) 612.68